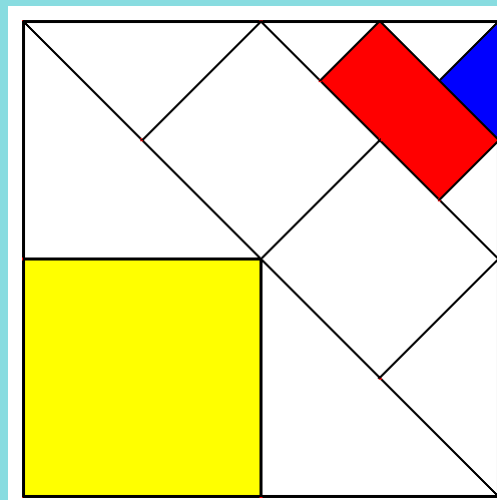



FINALE 2009

**ATELIER N° 3****Du grand au petit**

*Le carré jaune a une surface qui mesure 300 unités d'aire.  
Combien d'unités d'aire mesure la surface du rectangle rouge?  
Et celle du triangle bleu?*



*Les pièces du puzzle sont là pour vous aider à trouver les bonnes réponses.*

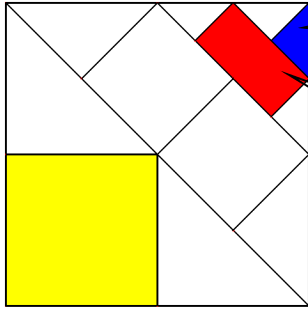


FINALE 2009



### ATELIER N° 3: feuille réponse

Collège:



Ma surface est .....unités d'aire.

Ma surface est .....unités d'aire.

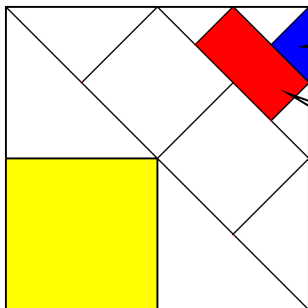


FINALE 2009



### ATELIER N° 3: feuille réponse

Collège:

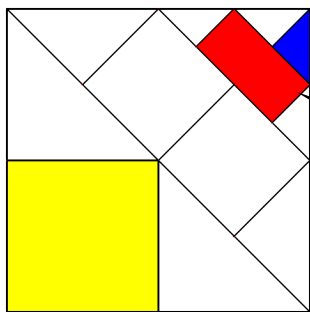


Ma surface est .....unités d'aire.

Ma surface est .....unités d'aire.

## ATELIER N° 3: *correction*

**Barème : 15 points par réponse trouvée**



Ma surface est **18,75** unités d'aire.

Ma surface est **75** unités d'aire.

|         |  |  |  |  |  |  |
|---------|--|--|--|--|--|--|
| Collège |  |  |  |  |  |  |
| Points  |  |  |  |  |  |  |

|         |  |  |  |  |  |  |
|---------|--|--|--|--|--|--|
| Collège |  |  |  |  |  |  |
| Points  |  |  |  |  |  |  |