




FINALE 2009

ATELIER N° 5**Le bon cap**

Le vieux Tom est bien trop âgé maintenant pour aller en mer. Il charge ses 5 neveux d'aller récupérer sur cinq îlots du lagon les affaires qu'il avait laissées en réserve lors de ses dernières parties de pêche.

Heureusement, il avait bien noté la route qu'il faut prendre en partant du port de Nouméa pour se rendre sur ces îlots.

Mais ses neveux n'ont jamais navigué tout seuls, sauront-ils trouver leur route?



Pour les récompenser, le vieux Tom léguera son bateau à ceux qui auront su trouver la bonne route.




Pour les aider dans leur mission, le vieux Tom leur donne son carnet de notes, un schéma pour leur apprendre à suivre la route, et la carte marine du lagon.



Faites 5 équipes, chaque équipe devra tracer sur la carte marine le trajet d'un neveu pour se rendre à l'un des cinq îlots.

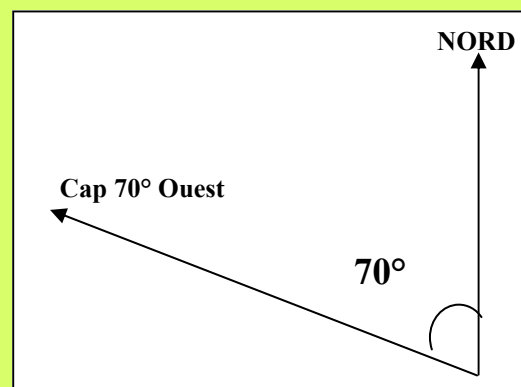
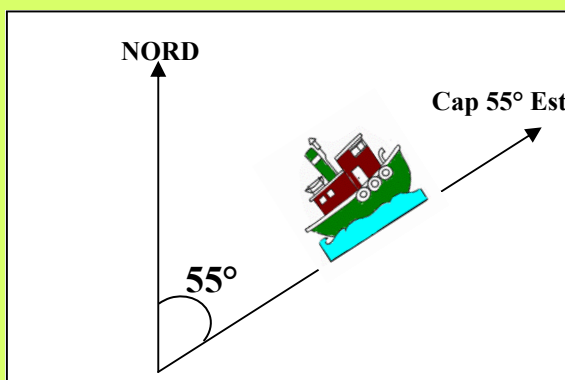
Carnet de notes

Route N°1:



Pars du point A à l'entrée du port.
 Prends le cap 165° Ouest pendant 4 miles.
 Puis le cap 127° Est pendant 9 miles.
 Prends enfin le cap 125° Ouest pendant 3,5 miles.
 Te voilà arrivé.


Schémas pour tracer ta route



Pour les distances en miles, sers toi du bord de la carte,
 chaque graduation représente 1 mile.

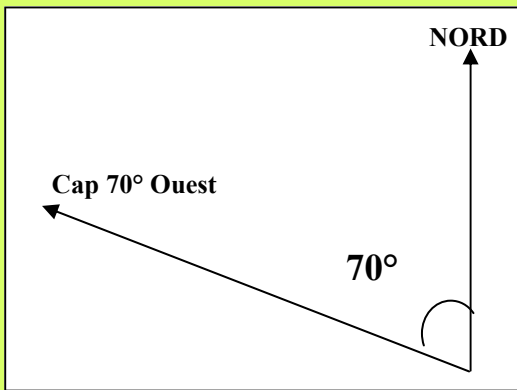
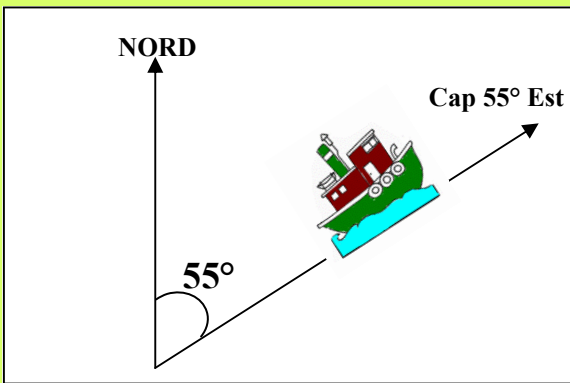
Carnet de notes

Route N°2:



*Pars du point A à l'entrée du port.
Prends le cap 160° Est pendant 6 miles.
Puis le cap 115° Est pendant 11 miles.
Prends enfin le cap 165° Ouest pendant 3,5 miles.
Te voilà arrivé.*


Schémas pour tracer ta route



*Pour les distances en miles, sers toi du bord de la carte,
chaque graduation représente 1 mile.*

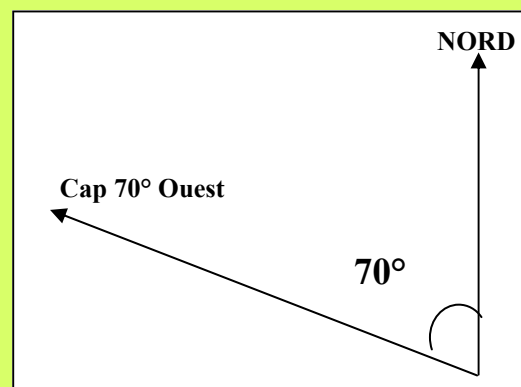
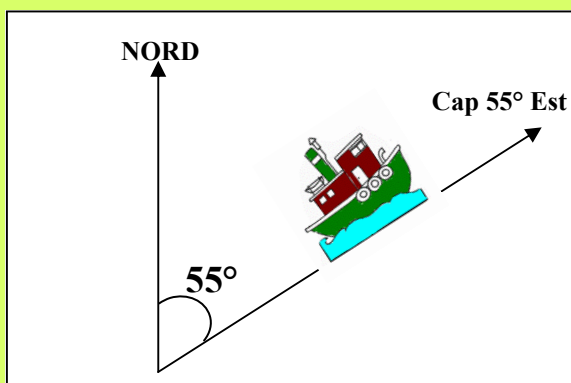
Carnet de notes

Route N°3:



Pars du point A à l'entrée du port.
 Prends le cap 150° Est pendant 15 miles.
 Puis le cap 125° Est pendant 6 miles.
 Prends enfin le cap 92° Est pendant 8,2 miles.
 Te voilà arrivé.


Schémas pour tracer ta route



Pour les distances en miles, sers toi du bord de la carte,
 chaque graduation représente 1 mile.

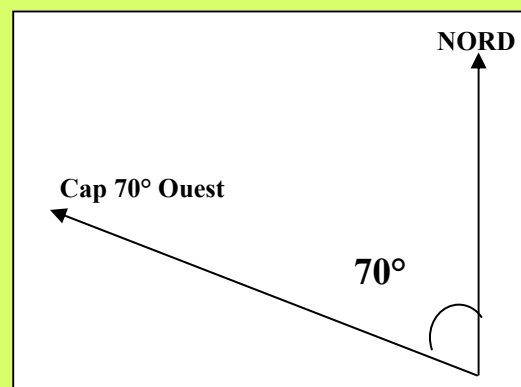
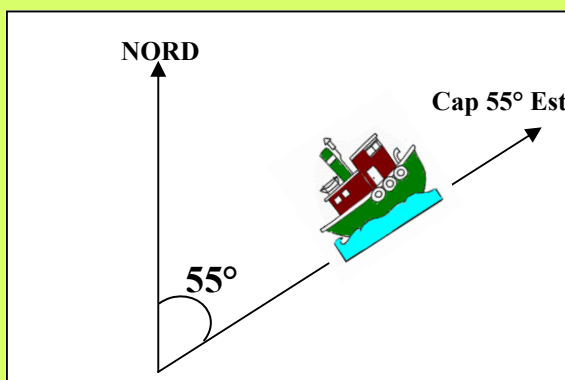
Carnet de notes

Route N°4:



Pars du point A à l'entrée du port.
 Prends le cap 140° Est pendant 6 miles.
 Puis le cap 80° Est pendant 8,2 miles.
 Prends enfin le cap 40° Ouest pendant 3 miles.
 Te voilà arrivé.


Schémas pour tracer ta route



Pour les distances en miles, sers toi du bord de la carte,
 chaque graduation représente 1 mile.

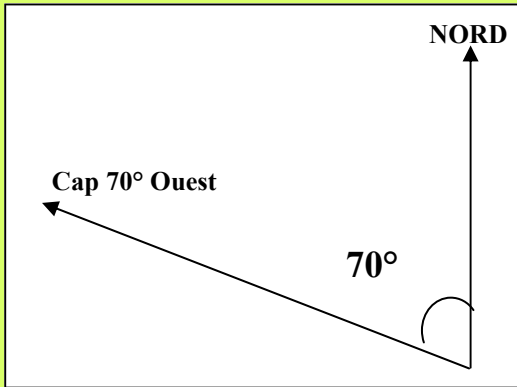
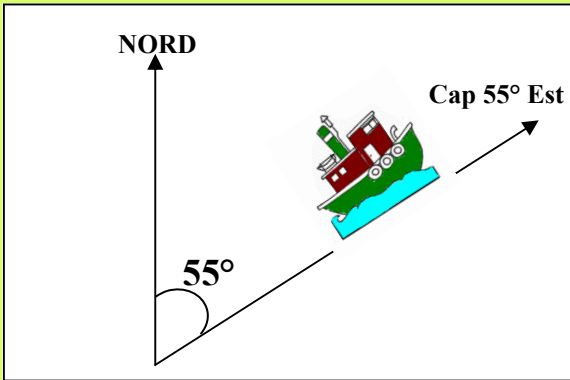
Carnet de notes

Route N°5:



*Pars du point A à l'entrée du port.
Prends le cap 135° Est pendant 7 miles.
Puis le cap 93° Est pendant 10 miles.
Prends enfin le cap 120° Est pendant 6,5 miles.
Te voilà arrivé.*

Schémas pour tracer ta route



*Pour les distances en miles, sers toi du bord de la carte,
chaque graduation représente 1 mile.*

Atelier N°5 : Le bon cap

Barème:**10 points par destination, dans un rayon de 1 mile****5 points par destination dans un rayon de 2 miles****0 au delà**

collège							
Route N°1							
Route N°2							
Route N°3							
Route N°4							
Route N°5							
Total							